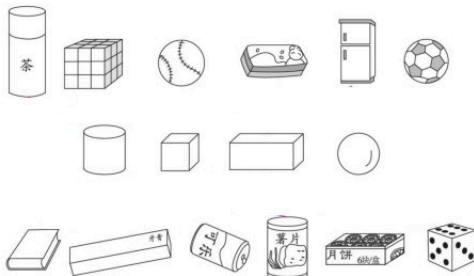


## 第六单元测试

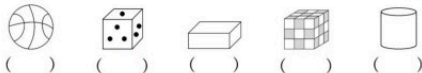
(时间:40分钟 满分:100分)

### 一、把下列物体与对应的图形连起来。(12分)




### 二、选一选。(10分)

1. 在正方体下面的( )里画“√”。(4分)

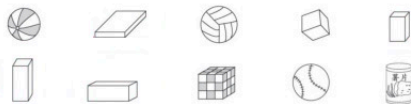


2. 在球下面的( )里画“√”。(6分)



### 三、圈一圈。(9分)

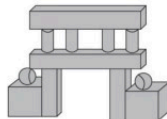
1. 把下列物体中的长方体圈起来。(4分)



2. 把容易向四面八方滚动的物体圈起来。(5分)



### 四、数一数,填一填。(8分)



左图中,正方体有( )个;

长方体有( )个;

圆柱有( )个;

球有( )个。

### 五、按要求分类。(12分)




圆柱

正方体

球

长方体



## 六、按要求完成下列各题。(25 分)

1. 哪组物体能站稳? 在对应的( )里画“△”。(6 分)



( )



( )



( )

2. 下面哪种搭法最稳? 在对应的( )里画“√”。(6 分)



( )



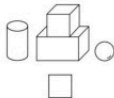
( )



( )

3. 摆得对的在 ☐ 里画“√”。(5 分)

先放一个长方体, 再在它的左边放一个球, 上面放一个正方体, 右边放一个圆柱。



☐



☐

4. 数一数。(8 分)



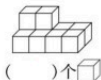
( ) 个



( ) 个

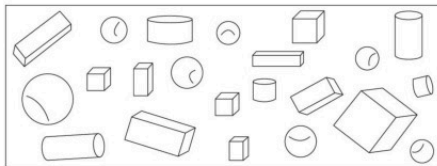


( ) 个



( ) 个

## 七、1 积木世界。(16 分)



数一数上面的积木, 填一填。

1. 长方体有( )个, 正方体有( )个, 圆柱有( )个, 球有( )个。

2. 上面的积木中, ( ) 最多; ( ) 最少。

3. 球和正方体相比, ( ) 多, 多( ) 个。

$$\square \bigcirc \square = \square$$

4. 正方体和长方体一共有多少个?

$$\square \bigcirc \square = \square$$

## 八、探究题。(8 分)

方框中的哪两个图形能拼成下面的图形, 请你连一连。

